



نم تحميل وعرض المادة من  
موقع حل دروسي

[www.hldrwsy.com](http://www.hldrwsy.com)

موقع حل دروسي هو موقع تعليمي يعمل على مساعدة المعلمين والطلاب وأولياء الأمور في تقديم حلول الكتب المدرسية والاختبارات وشرح الدروس والملخصات والتحضير وتوزيع المنهج لكل المراحل الدراسية بشكل واضح ومبسط مجاناً بتصفح وعرض مباشر أونلاين على موقع حل دروسي

اختبار التربية الفنية – ثالث ابتدائي – الترم الاول للعام 1447

الصف : ٣ / .....

اسم الطالب/ة : .....

السؤال الأول ، صح او خطأ :

١. التصميم هو التخطيط لشيء معين وإنشاؤه بطريقة جميلة وممتعة

صح ☐ خطأ ☐

٢. يتم تنفيذ الاسكتش غالباً بأقلام الرصاص

صح ☐ خطأ ☐

٣. ألعابنا تعتمد على التصميم

صح ☐ خطأ ☐

٤. التصميم يستخدم في الفنون و العمارة و الأثاث فقط

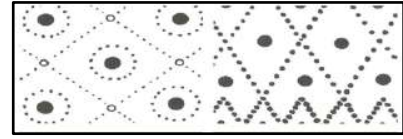

صح ☐ خطأ ☐

٥. لم يعتمد الانسان في زخرفته على الموجودات المحيطة به

صح ☐ خطأ ☐

السؤال الثاني ، اختاري ما بين الاقواس وضعه في المكان المناسب في الفراغات التالية :

( تشكيلات من نقطة – تشكيلات من الخطوط )



.....

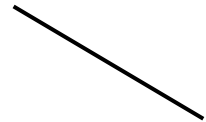
.....

السؤال الثالث ، صل/ي بين الشكل وما يناسبه من الكلمات فيما يأتي :

الخط



الحجم



الشكل



# نموذج الإجابة

المملكة العربية السعودية  
وزارة التعليم  
الإدارة العامة للتعليم بمنطقة  
ابتدائية .....

وزارة التعليم  
Ministry of Education

١٠

اختبار التربية الفنية - ثالث ابتدائي - الترم الاول للعام 1447

الصف : ٣ / .....

اسم الطالب/ة : .....

السؤال الأول ، صح او خطأ :

١. التصميم هو التخطيط لشيء معين وإنشاؤه بطريقة جميلة وممتعة

☒ صح ☐ خطأ

٢. يتم تنفيذ الاسكتش غالباً بأقلام الرصاص

☒ صح ☐ خطأ

٣. ألعابنا تعتمد على التصميم

☒ صح ☐ خطأ

٤. التصميم يستخدم في الفنون و العمارة و الأثاث فقط


☒ صح ☐ خطأ

٥. لم يعتمد الانسان في زخرفته على الموجودات المحيطة به

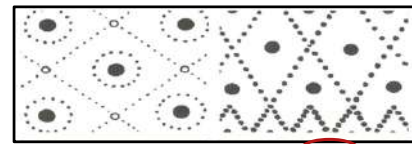
☒ صح ☐ خطأ

السؤال الثاني ، اختاري ما بين الأقواس وضعه في المكان المناسب في الفراغات التالية :

( تشكيلات من نقطة - تشكيلات من الخطوط )

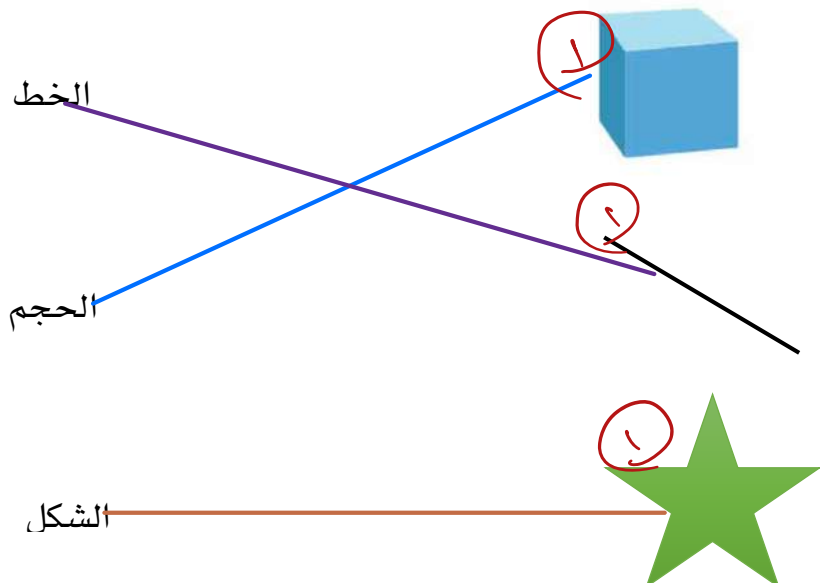


..... تشكيلات من الخطوط



..... تشكيلات من نقطة

السؤال الثالث ، ص/ي بين الشكل وما يناسبه من الكلمات فيما يأتي :



الدرجة الكاملة	المادة	المملكة العربية السعودية وزارة التعليم الإدارة العامة للتعليم بمحافظة الطائف مدرسة جميلة بنت الحارث
١٠	تربية فنية	
	عدد الأوراق ١	
	عدد الأسئلة ١	



## اختبار مادة (التربية الفنية) للصف (الثالث) - الفصل الدراسي (الأول) - الفترة (الأولى) للعام 1447

اسم الطالبة	الصف	
-------------	------	--

### السؤال الأول:

ضعي علامة ( ✓ ) أمام العبارة الصحيحة وعلامة ( × ) أمام العبارة الخاطئة فيما يلي :

م	العبارة	العلامة
١	التصميم هو التخطيط لشيء معين	( )
٢	النقطة هي أبسط عناصر التصميم	( )
٣	نجد شكل النقطة في أشياء كثيرة من حولنا مثل الفراولة	( )
٤	من عناصر التصميم الخط	( )
٥	من أنواع الخطوط الخط المتعرج	( )
٦	الإسكتش هو التخطيط الأولي لأي عمل	( )
٧	يستخدم في رسم الإسكتش قلم الرصاص	( )
٨	تشكيلات من نقطة من الزخرفة البدائية	( )
٩	من الزخارف الإسلامية زخرفة كتابية	( )
١٠	يعتمد الإسكتش على الخط	( )

انتهت الأسئلة  
مع تمنياتي لכן بالتوفيق  
معلمة المادة