

نعم تحميل وعرض المادة من





















موقع حل دروسي





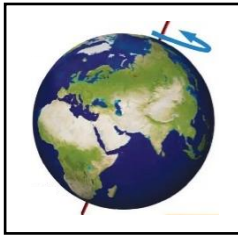
[www.hldrwsy.com](http://www.hldrwsy.com)

موقع حل دروسي هو موقع تعليمي يعمل على مساعدة المعلمين والطلاب وأولياء الأمور في تقديم حلول الكتب المدرسية والاختبارات وشرح الدروس والملاحظات والتفاصيل وتوزيع المنهج لكل المراحل الدراسية بشكل واضح ومبسط مجاناً بتصفح وعرض مباشر أونلاين على موقع حل دروسي

## اختبار تشخيصي مادة العلوم للصف الثاني نموذج (١)

الاسم/

<table border="1"> <tr> <td>اجتاز</td> <td>○</td> </tr> <tr> <td>لم يجتاز</td> <td>○</td> </tr> </table>	اجتاز	○	لم يجتاز	○	<p>س١/ رتب مراحل حياة نبات الفاصوليا بوضع الرقم المناسب (١ - ٢ - ٣ - ٤)</p> <div style="display: flex; justify-content: space-around; align-items: center;"> <div style="text-align: center;">  <input type="checkbox"/> </div> <div style="text-align: center;">  <input type="checkbox"/> </div> <div style="text-align: center;">  <input type="checkbox"/> </div> <div style="text-align: center;">  <input type="checkbox"/> </div> </div>	<p>التعرف على مراحل دورة حياة النبات</p>								
اجتاز	○													
لم يجتاز	○													
<table border="1"> <tr> <td>اجتاز</td> <td>○</td> </tr> <tr> <td>لم يجتاز</td> <td>○</td> </tr> </table>	اجتاز	○	لم يجتاز	○	<p>س٢/ رتب بالأرقام مراحل دورة حياة الماعز:</p> <div style="display: flex; justify-content: space-around; align-items: center;"> <div style="text-align: center;">  <input type="checkbox"/> </div> <div style="text-align: center;">  <input type="checkbox"/> </div> <div style="text-align: center;">  <input type="checkbox"/> </div> </div>	<p>وصف دورات حياة الحيوانات والمقارنة بينهما</p>								
اجتاز	○													
لم يجتاز	○													
<table border="1"> <tr> <td>اجتاز</td> <td>○</td> </tr> <tr> <td>لم يجتاز</td> <td>○</td> </tr> </table>	اجتاز	○	لم يجتاز	○	<p>س٣/ من خلال السلسلة الغذائية التالية ::</p> <div style="display: flex; align-items: center; justify-content: center;"> <div style="text-align: center;">  <p>النسر</p> </div> <div style="text-align: center;">  <p>تعبان</p> </div> <div style="text-align: center;">  <p>فأر</p> </div> <div style="text-align: center;">  <p>نبات</p> </div> </div> <p>يتغذى على :</p> <table border="1" style="width: 100%; text-align: center;"> <tr> <td style="width: 25%;"></td> <td style="width: 25%;">خ</td> <td style="width: 25%;"></td> <td style="width: 25%;">ب</td> </tr> <tr> <td style="width: 25%;"></td> <td style="width: 25%;">أ</td> <td style="width: 25%;"></td> <td style="width: 25%;"></td> </tr> </table>		خ		ب		أ			<p>وصف السلسلة الغذائية</p>
اجتاز	○													
لم يجتاز	○													
	خ		ب											
	أ													

<table border="1"> <tr> <td>اجتاز</td> <td>○</td> </tr> <tr> <td>لم يجتاز</td> <td>○</td> </tr> </table>	اجتاز	○	لم يجتاز	○	<p>س٤ / ضع علامة (✓) تحت الحيوان الذي يعيش في الغابة المطيرة:</p> <div style="display: flex; justify-content: space-around; align-items: center;">     </div> <div style="display: flex; justify-content: space-around; align-items: center; margin-top: 20px;"> <div style="border: 1px solid black; border-radius: 50%; width: 40px; height: 40px;"></div> <div style="border: 1px solid black; border-radius: 50%; width: 40px; height: 40px;"></div> <div style="border: 1px solid black; border-radius: 50%; width: 40px; height: 40px;"></div> <div style="border: 1px solid black; border-radius: 50%; width: 40px; height: 40px;"></div> </div>	المقارنة بين الغابات المطيرة والغابات الأخرى
اجتاز	○					
لم يجتاز	○					
<table border="1"> <tr> <td>اجتاز</td> <td>○</td> </tr> <tr> <td>لم يجتاز</td> <td>○</td> </tr> </table>	اجتاز	○	لم يجتاز	○	<p>س٥ / أنظر إلى الصورة المجاورة ثم اختر الإجابة الصحيحة:  تعد هذه الطبقة من التربة الأفضل لنمو النباتات لأنها تحتوي على:</p> <ol style="list-style-type: none"> <li>١- صخور مفتتة.</li> <li>٢- الهواء بين حبيباتها.</li> <li>٣- بقايا نباتات وحيوانات متحللة.</li> </ol>	تفسير كيف تتكون التربة
اجتاز	○					
لم يجتاز	○					
<table border="1"> <tr> <td>اجتاز</td> <td>○</td> </tr> <tr> <td>لم يجتاز</td> <td>○</td> </tr> </table>	اجتاز	○	لم يجتاز	○	<p>س٦ / اختر الإجابة الصحيحة :  يحدث الليل والنهار بسبب .....</p> <div style="display: flex; align-items: center; margin-bottom: 20px;">  </div> <ul style="list-style-type: none"> <li>- دوران حول الأرض حول محورها</li> <li>- دوران القمر حول الأرض.</li> <li>- دوران الأرض حول الشمس.</li> </ul>	التوصل إلى أن دوران الأرض حول نفسها يسبب الليل والنهار
اجتاز	○					
لم يجتاز	○					
<table border="1"> <tr> <td>اجتاز</td> <td>○</td> </tr> <tr> <td>لم يجتاز</td> <td>○</td> </tr> </table>	اجتاز	○	لم يجتاز	○	<p>س٧ / ضع علامة (✓) أو (×) :</p> <p>١- عدد كواكب النظام الشمسي خمسة كواكب ( )</p>	توضيح العلاقة بين الكواكب والشمس
اجتاز	○					
لم يجتاز	○					

مديرة المدرسة:
















اسم المعلمة:

المشرفة التربوية:

\*يرجى الاحتفاظ بالشواهد في ملف خاص بالمعلمة

## اختبار تشخيصي مادة العلوم للصف الثاني نموذج (٢)

الاسم/

		س١/ رتب مراحل حياة نبات الرمان بوضع الرقم المناسب (١ - ٢ - ٣ - ٤)				التعرف على مراحل دورة حياة النبات	
اجتاز	٠						
لم يجتاز	٠	(.....)	(.....)	(.....)	(.....)		
		س٢/ رتب بالأرقام مراحل دورة حياة الضفدع:				وصف دورات حياة الحيوانات والمقارنة بينهما	
اجتاز	٠						
لم يجتاز	٠						
		س٣/ من خلال السلسلة الغذائية التالية:				وصف السلسلة الغذائية	
اجتاز	٠						
لم يجتاز	٠	صقر	أرنب	نبات	شمس		
		الصقر يتغذى على:					
			ج		ب		أ



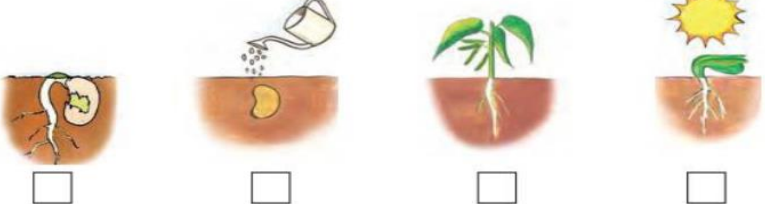



<table border="1"> <tr> <td>اجتاز</td> <td><input type="radio"/></td> </tr> <tr> <td>لم يجتاز</td> <td><input type="radio"/></td> </tr> </table>	اجتاز	<input type="radio"/>	لم يجتاز	<input type="radio"/>		<p>س ٤ / اختر الإجابة الصحيحة: في الغابة المطيرة: ١- تنمو الأشجار عاليا ولها أوراق ضخمة. ٢- يقل سقوط الأمطار فيها. ٣- نباتاتها قصيرة وقليلة.</p>	<p>المقارنة بين الغابات المطيرة والغابات الأخرى</p>						
اجتاز	<input type="radio"/>												
لم يجتاز	<input type="radio"/>												
<table border="1"> <tr> <td>اجتاز</td> <td><input type="radio"/></td> </tr> <tr> <td>لم يجتاز</td> <td><input type="radio"/></td> </tr> </table>	اجتاز	<input type="radio"/>	لم يجتاز	<input type="radio"/>	<p>س ٥ / اختر الكلمة المناسبة ثم أكتبها في الفراغ : ( الحيوانات - الصخور ) التربة هي خليط من فتات ..... وبقايا النباتات والحيوانات الميتة.</p>	<p>س ٥ / اختر الكلمة المناسبة ثم أكتبها في الفراغ :</p>	<p>تفسير كيف تتكون التربة</p>						
اجتاز	<input type="radio"/>												
لم يجتاز	<input type="radio"/>												
<table border="1"> <tr> <td>اجتاز</td> <td><input type="radio"/></td> </tr> <tr> <td>لم يجتاز</td> <td><input type="radio"/></td> </tr> </table>	اجتاز	<input type="radio"/>	لم يجتاز	<input type="radio"/>		<p>س ٦ / ضع علامة (✓) أو (x): يحدث الليل والنهار بسبب دوران الأرض حول محورها ( )</p>	<p>حول نفسها بسبب الليل والنهار</p>						
اجتاز	<input type="radio"/>												
لم يجتاز	<input type="radio"/>												
<table border="1"> <tr> <td>اجتاز</td> <td><input type="radio"/></td> </tr> <tr> <td>لم يجتاز</td> <td><input type="radio"/></td> </tr> </table>	اجتاز	<input type="radio"/>	لم يجتاز	<input type="radio"/>	<p>س ٧ / اختر الإجابة الصحيحة: ٢- تتشابه كواكب النظام الشمسي في أن جميعها تدور حول .....</p> <table border="1" data-bbox="472 1375 1350 1442"> <tr> <td>أ</td> <td>الشمس</td> <td>ب</td> <td>القمر</td> <td>خ</td> <td>الأرض</td> </tr> </table>	أ	الشمس	ب	القمر	خ	الأرض	<p>س ٧ / اختر الإجابة الصحيحة:</p>	<p>توضيح العلاقة بين الكواكب والشمس</p>
اجتاز	<input type="radio"/>												
لم يجتاز	<input type="radio"/>												
أ	الشمس	ب	القمر	خ	الأرض								






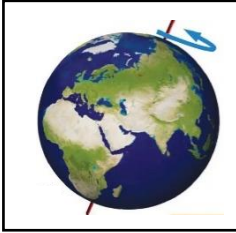
اسم المعلمة:  
المشرفة/ة التربوي/ة:  
مديرة/ة المدرسة:

\*يرجى الاحتفاظ بالشواهد في ملف خاص بالمعلمة/ة

### اختبار تشخيصي مادة العلوم للصف الثاني نموذج (٣)

الاسم/

اجتاز		لم يجتاز		س١ / رتب مراحل حياة نبات الفاصوليا بوضع الرقم المناسب (١ - ٢ - ٣ - ٤)		التعرف على مراحل دورة حياة النبات
<input type="checkbox"/>	<input type="checkbox"/>	<input type="checkbox"/>	<input type="checkbox"/>			
اجتاز		لم يجتاز		س٢ // رتب بالأرقام مراحل دورة حياة الفراشة:		وصف دورات حياة الحيوانات والمقارنة بينهما
<input type="checkbox"/>	<input type="checkbox"/>	<input type="checkbox"/>	<input type="checkbox"/>			
اجتاز		لم يجتاز		س٣ / من خلال السلسلة الغذائية التالية ::		وصف السلسلة الغذائية
<input type="checkbox"/>	<input type="checkbox"/>	<input type="checkbox"/>	<input type="checkbox"/>			
					على :	

<table border="1"> <tr> <td>اجتاز</td> <td><input type="radio"/></td> </tr> <tr> <td>لم يجتاز</td> <td><input type="radio"/></td> </tr> </table>	اجتاز	<input type="radio"/>	لم يجتاز	<input type="radio"/>	<p>س٤ / ضع علامة (✓) تحت الحيوان الذي يعيش في الصحراء الحارة:</p> <div style="display: flex; justify-content: space-around; align-items: center;"> <div style="text-align: center;">  <p><input type="radio"/></p> </div> <div style="text-align: center;">  <p><input type="radio"/></p> </div> <div style="text-align: center;">  <p><input type="radio"/></p> </div> <div style="text-align: center;">  <p><input type="radio"/></p> </div> </div>	المقارنة بين الغابات المطيرة والغابات الأخرى						
اجتاز	<input type="radio"/>											
لم يجتاز	<input type="radio"/>											
<table border="1"> <tr> <td>اجتاز</td> <td><input type="radio"/></td> </tr> <tr> <td>لم يجتاز</td> <td><input type="radio"/></td> </tr> </table>	اجتاز	<input type="radio"/>	لم يجتاز	<input type="radio"/>	<p>س٥ / ضع علامة (✓) أو (x):</p> <p>١- تتكون التربة من فتات الصخور فقط ( )</p> <div style="text-align: center;">  </div>	تفسير كيف تتكون التربة						
اجتاز	<input type="radio"/>											
لم يجتاز	<input type="radio"/>											
<table border="1"> <tr> <td>اجتاز</td> <td><input type="radio"/></td> </tr> <tr> <td>لم يجتاز</td> <td><input type="radio"/></td> </tr> </table>	اجتاز	<input type="radio"/>	لم يجتاز	<input type="radio"/>	<p>س٦ / اختر الإجابة الصحيحة:</p> <p>يحدث الليل والنهار بسبب دوران الأرض حول .....</p> <table border="1" style="width: 100%; text-align: center;"> <tr> <td>أ</td> <td>محورها</td> <td>ب</td> <td>القمر</td> <td>خ</td> <td>الشمس</td> </tr> </table> <div style="text-align: center;">  </div>	أ	محورها	ب	القمر	خ	الشمس	التوصل إلى أن دوران الأرض حول نفسها يسبب الليل والنهار
اجتاز	<input type="radio"/>											
لم يجتاز	<input type="radio"/>											
أ	محورها	ب	القمر	خ	الشمس							
<table border="1"> <tr> <td>اجتاز</td> <td><input type="radio"/></td> </tr> <tr> <td>لم يجتاز</td> <td><input type="radio"/></td> </tr> </table>	اجتاز	<input type="radio"/>	لم يجتاز	<input type="radio"/>	<p>س٧ / ضع علامة (✓) أو (x):</p> <p>١- تتشابه كواكب النظام الشمسي في أن جميعها تدور حول الشمس ( )</p>	توضيح العلاقة بين الكواكب والشمس						
اجتاز	<input type="radio"/>											
لم يجتاز	<input type="radio"/>											

مديرة المدرسة:

اسم المعلمة:

المشرفة التربوية:

\*يرجى الاحتفاظ بالشواهد في ملف خاص بالمعلمة