

نعم تحميل وعرض المادة من

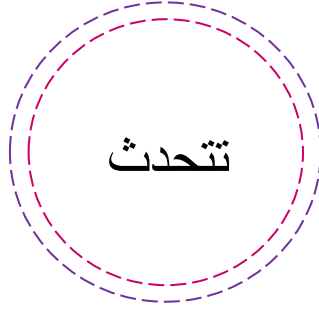
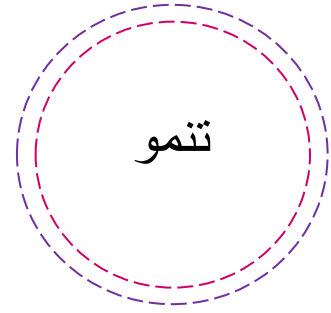
موقع حل دروسي

[www.hldrwsy.com](http://www.hldrwsy.com)

موقع حل دروسي هو موقع تعليمي يعمل على مساعدة المعلمين والطلاب وأولياء الأمور في تقديم حلول الكتب المدرسية والاختبارات وشرح الدروس والملخصات والتفاصيل وتوزيع المنهج لكل المراحل الدراسية بشكل واضح ومبسط مجاناً بتصفح وعرض مباشر أونلاين على موقع حل دروسي

المهارة : تفسير اعتبار النباتات مخلوقات حية

❖ ألون الدوائر التي تفسر اعتبار النباتات مخلوقات حية :



المهارة : تطبيق الطريقة العلمية التي يستخدمها العلماء في دراسة العلوم  
بصورة مبسطة

❖ أرتب خطوات الطريقة العلمية التي يستخدمها العلماء بوضع الرقم المناسب :

أضع خطة

.....

أسأل

.....

أستنتج

.....

أعيد التجربة

.....

ألاحظ

.....

أتوقع

.....

أتبع الخطة







.....

أسجل النتائج

.....



المهارة : تصنيف الحيوانات والمقارنة بينها تبعاً لصفاتها الجسمية من خلال قراءة الصور.






❖ أصل كل صورة بما يناسبها :

←	أسماك
←	طيور
←	برمائيات
←	زواحف
←	حشرات
←	ثدييات



**المهارة :** تصنيف الحيوانات والمقارنة بينها تبعًا لصفاتها الجسمية من خلال قراءة الصور.

❖ أقرن بين الحيوانات تبعًا لصفاتها الجسمية من خلال قراءة الصور

<input type="radio"/> فقاريات <input type="radio"/> لا فقاريات	يغطي جسمه: <input type="radio"/> حراشف <input type="radio"/> ريش <input type="radio"/> شعر	<input type="radio"/> زواحف <input type="radio"/> طيور <input type="radio"/> ثدييات	 الأسد
<input type="radio"/> فقاريات <input type="radio"/> لا فقاريات	يغطي جسمه: <input type="radio"/> حراشف <input type="radio"/> ريش <input type="radio"/> شعر	<input type="radio"/> زواحف <input type="radio"/> طيور <input type="radio"/> ثدييات	 الصقر
<input type="radio"/> فقاريات <input type="radio"/> لا فقاريات	يغطي جسمه: <input type="radio"/> حراشف <input type="radio"/> ريش <input type="radio"/> شعر	<input type="radio"/> زواحف <input type="radio"/> طيور <input type="radio"/> ثدييات	 أفعى



المهارة : تعداد حاجات النباتات

❖ أضع علامة ( / ) أمام العبارة الصحيحة وعلامة ( ✕ ) أمام العبارة الخاطئة :

- ١- تحتاج النباتات لضوء الشمس في النمو ( )
- ٢- يسمح الساق بانتقال الماء والغذاء خلاله إلى باقي أجزاء النبتة ( )
- ٣- تساعد الأوراق على صنع الغذاء ( )
- ٤- تقوم الجذور بتثبيت النبتة في التربة ( )
- ٥- عندما يصنع النبات الغذاء يقوم بإطلاق غاز النيتروجين في الهواء ( )
- ٦- لا تحتاج النباتات للتربة الجيدة في النمو ( )

❖ أصل من العمود الأول ما يناسبها من العمود الثاني :

ب	أ
تمتص الماء والأملاح من التربة	الأوراق
ينقل الماء والغذاء خلاله	الجذور
تستخدم ضوء الشمس لصنع الغذاء	الساق



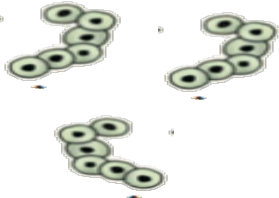
المهارة : ترتيب مراحل دورة حياة حيوان ما من خلال الصور

❖ أرتب مراحل دورة حياة حيوان ما من خلال الصور :

(.....)



(.....)



(. )

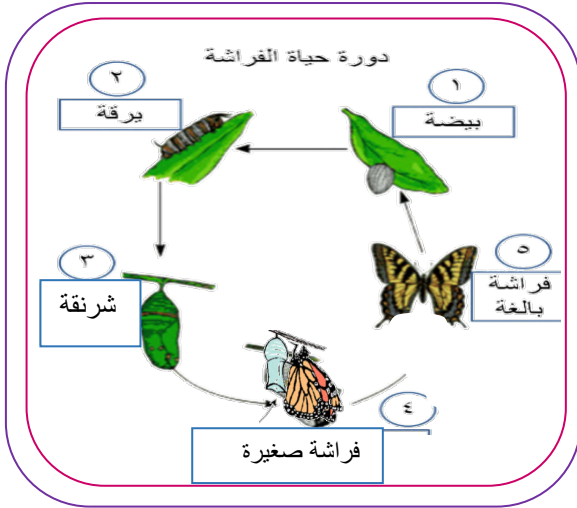


(.....)



المهارة : المقارنة بين دورة حياة حيوانين مختلفين من خلال الصور

❖ أضع إشارة ( ✓ ) في المربع المناسب :



( ) \* الصغير يشبه أمه

( ) \* الصغير يشبه أمه

( ) \* يخرج الصغير من البيضة

( ) \* يخرج الصغير من البيضة

( ) \* يتحول شكل الصغير خلال دورة حياته

( ) \* يتحول شكل الصغير خلال دورة حياته

( ) \* يعتبر الحيوان من الفقاريات








( ) \* يعتبر الحيوان من الفقاريات





المهارة : ترتيب مجموعة صور لمراحل دورة حياة نبات ما

❖ أرتب دورة حياة نبات الفاصوليا من خلال الصور :



المهارة : وصف مبسط للبذرة مع بيان مصدرها

❖ أكمل العبارات التالية بالكلمات المناسبة:

( الزهرة - حبوب اللقاح - البذرة )

١- تنتج الزهرة مسحوق يسمى ..... يساعد على إنتاج البذور.

٢- ..... هي التي تكون البذور والثمار في النبات.

٣- ..... هي جزء النبات الذي ينمو ويصير نباتا جديدا


❖ أصل من العمود الأول ما يناسبها من العمود الثاني :

ب	أ
تحمي البذور التي بداخلها	الرياح
لها أغلفة تحميها من الجفاف	الثمرة
تساعد على نقل حبوب اللقاح	البذرة



المهارة : تقديم كتابة حول ترشيد استهلاك الماء

❖ أضع علامة ( √ ) أو ( × ) أمام الصور التالية :



المهارة : تعداد بعض مصادر الماء على الأرض

❖ أكمل العبارات الآتية بكلمات مناسبة من القائمة :

العذب - الأمطار - المحيط - الماء - الأنهار

- ١ - لا تستطيع المخلوقات الحية العيش بدون .....
- ٢ - الماء ..... هو الماء غير المالح و يوجد في البحيرات و .....
- ٣ - ..... تجمع كبير و عميق من الماء المالح .
- ٤ - من مصادر الماء العذب ماء .....

❖ أضع علامة ( √ ) أو ( × ) أمام العبارات التالية:

- ١- تغطي المحيطات ثلاث أرباع الكرة الأرضية ( )
- ٢- تستطيع الحيوانات الشرب من ماء البحار ( )
- ٣- يمكن للأسماك أن تعيش خارج الماء ( )
- ٤- من مصادر الماء العذب الآبار ( )



المهارة : معرفة مفهوم ( الصخور ، المعادن )

❖ أضع علامة ( √ ) أو ( × ) أمام العبارات التالية:

- ١- المعادن أجزاء غير حية تتكون منها الصخور ( )
- ٢- الصخور والمعادن أمثلة على الموارد الطبيعية ( )
- ٣- الموارد الطبيعية هي مواد من الأرض يستخدمها الناس في حياتهم ( )

❖ أكتب المصطلح بجوار التعريف المناسب :


المعادن – الصخور

- ١- الأجزاء الصلبة غير الحية من الأرض ( \_\_\_\_\_ )
- ٢- أجزاء صلبة غير حية تتكون منها الصخور ( \_\_\_\_\_ )




المهارة : تعداد بعض الأنواع المختلفة من التربة

❖ أصل كل نوع من أنواع التربة بصورته :



التربة الرملية



التربة السطحية




التربة الطينية



المهارة : تحديد الفريسة والمفترس في السلسلة غذائية


❖ أختار الكلمة المناسبة التي تدل على الصورة :



- المفترس  
 الفريسة



- المفترس  
 الفريسة



- المفترس  
 الفريسة





- المفترس  
 الفريسة



المهارة : تكوين سلسلة غذائية في موطن ما بترتيب مجموعة من الصور

❖ أرتب السلسلة الغذائية من خلال الصور التالية :





المهارة : تسمية بعض أشكال اليابسة

❖ أكتب شكل اليابسة تحت الصور مستعينة بالكلمات التالية :

الجبل – السهول – الوادي



❖ أكتب المصطلح بجوار التعريف المناسب :

الجبل – الوادي – التلال - السهل

- ١- منطقة منبسطة و واسعة \_\_\_\_\_
- ٢- منطقة مرتفعة جدا من اليابسة \_\_\_\_\_
- ٣- مناطق مرتفعة ولكن أقل ارتفاع من الجبال \_\_\_\_\_
- ٤- أرض منخفضة بين الجبال والتلال \_\_\_\_\_



المهارة : توضيح كيفية استخدام بعض الحيوانات والنباتات لمواطنها

❖ أكمل العبارات بكلمات مناسبة من القائمة :

غذاء - ضوء الشمس - للاختباء - حيوانات

- ١ - في الموطن تجد الحيوانات ما تحتاج إليه من ماء و .....
- ٢ - تحتاج النباتات في موطنها إلى ..... و الماء .
- ٣ - تتغذى بعض الحيوانات على ..... أخرى .
- ٤ - تستخدم الحيوانات موطنها ..... والنوم .

❖ أضع علامة ( √ ) أو ( × ) أمام العبارات التالية:

- ١- النباتات التي تعيش في الأماكن الجافة تتخلص من الماء الزائد ( )
- ٢- النباتات التي تعيش في الأماكن الرطبة تحتفظ بالماء ( )
- ٣- بعض الحيوانات تجد غذاؤها في التربة ( )



المهارة : تعداد بعض أنواع المواطن

❖ أصل بين اسم البيئة والصورة المناسبة لها :




الصحراء الباردة



الصحراء الحارة



الغابة المطيرة






الغابة



المهارة : التمثيل لبعض المخلوقات الحية التي تعيش في مواطن مختلفة

❖ أصل المخلوقات الحية بالمواطن التي تعيش فيها :



الصحراء الحارة

الصحراء الباردة



**المهارة :** تطبيق الطريقة العلمية التي يستخدمها العلماء في دراسة العلوم بصورة مبسطة

❖ أرقم بالتسلسل الطريقة العلمية :

	ألاحظ
	أنفذ الخطة
	أسجل النتائج
	أستنتج
	أسأل
	أعيد الخطة
	أتوقع
	أضع الخطة

