

نعم تحميل وعرض المادة من

موقع حل دروسي

[www.hldrwsy.com](http://www.hldrwsy.com)

موقع حل دروسي هو موقع تعليمي يعمل على مساعدة المعلمين والطلاب وأولياء الأمور في تقديم حلول الكتب المدرسية والاختبارات وشرح الدروس والملخصات والتفاصيل وتوزيع المنهج لكل المراحل الدراسية بشكل واضح ومبسط مجاناً بتصفح وعرض مباشر أونلاين على موقع حل دروسي

### أسئلة منتصف الفصل الدراسي الأول لعام الدراسي

اسم الطالب/ة: .....

السؤال الأول: (أ) اكتب المصطلح العلمي المناسب أمام كل تعريف:

.....	١. طريقة لتعلم المزيد حول العالم الطبيعي.
.....	٢. محاكاة لشيء ما أو حدث ما، ويستخدم كأداة لفهم العالم الطبيعي.
.....	٣. التغير في السرعة المتجهة مقسومًا على الزمن.
.....	٤. الميل إلى مقاومة إحداث تغيير في حركة الجسم.
.....	٥. معلومات يتم تجميعها أثناء البحث العلمي من خلال الملاحظات.

(ب) اختار الإجابة الصحيحة لكل فقرة من الفقرات التالية:

١- محاولة لتفسير سلوك أو نمط معين تم ملاحظته مرارًا في العالم الطبيعي:		
النظرية العلمية	القانون العلمي	الفرضية العلمية
٢- علم يهتم بدراسة المادة والطاقة؟		
علم الأحياء	العلوم الطبيعية	علم الأرض والفضاء
٣- عوامل يتم ضبطها أثناء التجربة ولا تتغير تسمى؟		
المتغير المستقل	المتغير التابع	الثوابت
٤- نموذج الكرة الأرضية يعد مثالاً على النماذج...		
الفكرية	الحاسوبية	المادية
٥- سرعة الجسم عند لحظة زمنية معينة تسمى؟		
السرعة المتوسطة	السرعة اللحظية	السرعة المتجهة

السؤال الثاني: (أ) ضع علامة صح أمام العبارة الصحيحة و علامة خطأ أمام العبارة الخاطئة:

( )	١- اتجاه قوة الاحتكاك عكس اتجاه الحركة.
( )	٢- كلما زادت كتلة الجسم قل قصوره الذاتي.
( )	٣- عندما تكون السرعة ثابتة فإن التسارع يكون صفراً.
( )	٤- السطوح الملساء تزيد من قوة الاحتكاك.
( )	٥- وحدة التسارع هي م / ث <sup>٢</sup> .
( )	٦- إذا أثرت قوتان في المقدار متعاكستان في الاتجاه فإن القوة المحصلة تكون صفراً.

السؤال الثاني: (ب) حلّ المسائل التي أمامك مراعي كتابة (المعطيات - المطلوب - القانون والوحدة)

تقطع طائرة ١٥٠٠ كم في ٣ ساعات. احسبي سرعتها المتوسطة؟

المعطيات	المطلوب	القانون والوحدة

إذا دفعت صندوق كتلته ٢٠ كجم بقوة ٤٠ نيوتن فما تسارع الصندوق؟

المعطيات	المطلوب	القانون والوحدة

انتهى بحمد الله وتوفيقه

علم/ات المارة

اسم الطالب : .....  
الصف : اول متوسط  
اليوم :  
التاريخ



المملكة العربية السعودية  
وزارة التعليم  
الإدارة العامة للتعليم بمنطقة  
الشرقية

### اختبار مادة العلوم للصف اول متوسط الفصل الدراسي الاول

السؤال الأول :-

10

أ ( نختار الاجابة الصحيحة فيما يلي :-

1- عوامل لا تتغير اثناء التجربة :	2- علم يهتم بدراسة المخلوقات الحية :
أ- المتغير المستقل	أ- علم الأرض
ب - الثوابت	ب - علم الاحياء
ج - الفرضية	ج - جميع ماسبق
3- تخمين قابل للقياس :	4- نماذج يمكن مشاهدتها ولمسها :
أ- التجربة	أ- الحاسوبية
ب - الفرضية	ب - المادية
ج - الثوابت	ج - الفكرية
5- علم يهتم بدراسة الأرض والفضاء	6- خريطة الطقس من النماذج :
أ- العلوم الطبيعية	أ- المادية
ب - علم الأرض والفلك	ب - الحاسوبية
ج - الكيمياء	ج - الفكرية

ب ( هل العبارات التالية صحيحة أم خاطئة :-

- 1- النظرية العلمية هي تفسير محتمل لظاهرة معينة ملاحظة في الطبيعة ( ..... )
- 2- علم الكيمياء يهتم بدراسة الماده. ( ..... )
- 3- الفرضية هي تخمين منطقي يمكن اختباره. ( ..... )
- 4- النموذج هو طريقة لتعلن المزيد حول العالم. ( ..... )

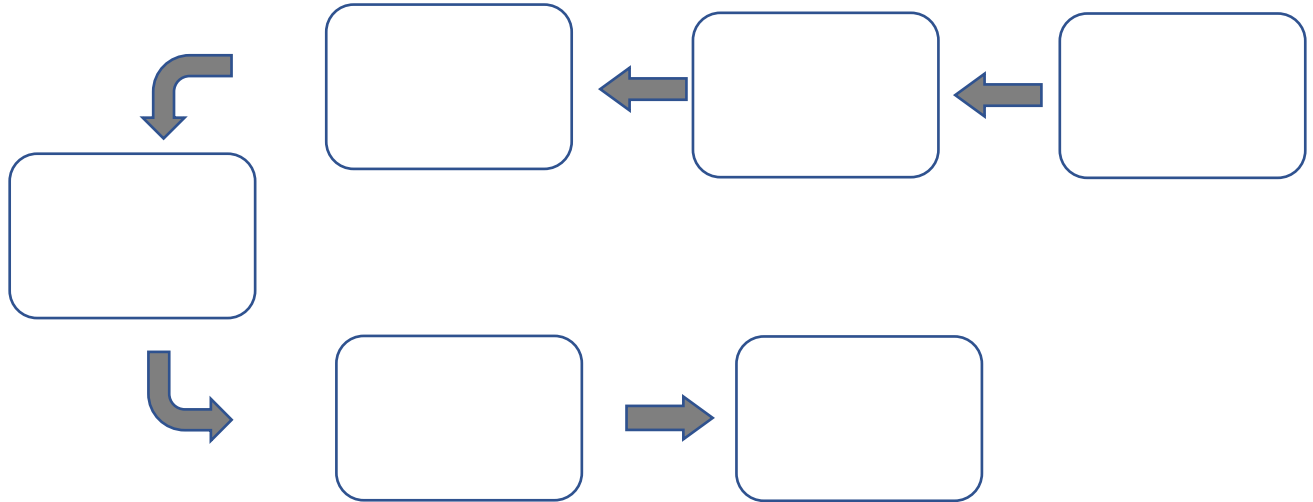
نتع

السؤال الثاني :-

10

أ) :- رتب خطوات الطريقة العلمية :

( الملاحظة - تحديد المشكله - وضع فرضية - تحليل البيانات - تجربة الفرضية - استخلاص النتائج )



ب) أذكر بعض من استخدامات النماذج :

- (١) .....
- (٢) .....
- (٣) .....

انتهت الأسئلة

بالتوفيق

معلم المادة / عبدالرحمن الشريوي

# نموذج الإجابة

اسم الطالب : .....  
الصف : اول متوسط  
اليوم :  
التاريخ :



المملكة العربية السعودية  
وزارة التعليم  
الإدارة العامة للتعليم بمنطقة  
الشرقية

اختبار مادة العلوم للصف اول متوسط الفصل الدراسي الاول ا

السؤال الأول :-

10

أ ( نختار الاجابة الصحيحة فيما يلي :-

1- عوامل لا تتغير اثناء التجربة :	2- علم يهتم بدراسة المخلوقات الحية :
أ- المتغير المستقل	أ- علم الأرض
ب - الثوابت	ب - علم الاحياء
ج - الفرضية	ج - جميع ماسبق
3- تخمين قابل للقياس :	4- نماذج يمكن مشاهدتها ولمسها :
أ- التجربة	أ- الحاسوبية
ب - الفرضية	ب - المادية
ج - الثوابت	ج - الفكرية
5- علم يهتم بدراسة الأرض والفضاء	6- خريطة الطقس من النماذج :
أ- العلوم الطبيعية	أ- المادية
ب - علم الأرض والفضاء	ب - الحاسوبية
ج - الكيمياء	ج - الفكرية

ب ( هل العبارات التالية صحيحة أم خاطئة :-

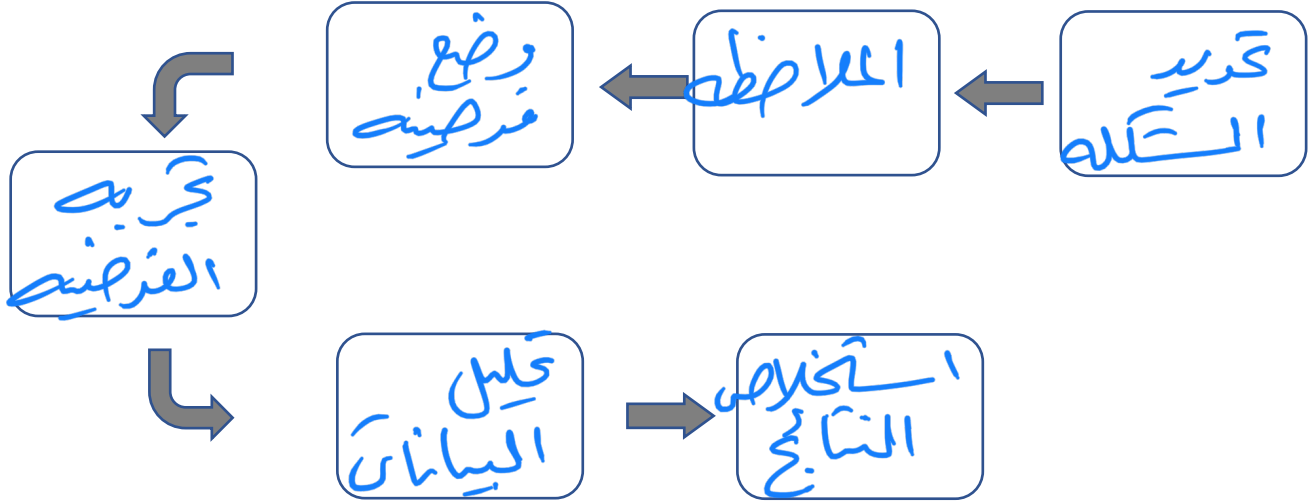
- 1- النظرية العلمية هي تفسير محتمل لظاهرة معينة ملاحظة في الطبيعة ( ..... )
- 2- علم الكيمياء يهتم بدراسة الماده. ( ..... )
- 3- الفرضية هي تخمين منطقي يمكن اختباره. ( ..... )
- 4- النموذج هو طريقة لتعلن المزيد حول العالم. ( ..... )

السؤال الثاني :-

10

أ) :- رتب خطوات الطريقة العلمية :

( الملاحظة - تحديد المشكلة - وضع فرضية - تحليل البيانات - تجربة الفرضية - استخلاص النتائج )



ب) أذكر بعض من استخدامات النماذج :

- ١) ..... من التواصل العلمي
- ٢) ..... لاختبار الفرضيات
- ٣) ..... لتوفير الوقت والمال والمحافظة على الأرواح

انتهت الأسئلة

بالتوفيق

معلم المادة / عبدالرحمن الشريوي

**السؤال الأول :** اختاري الإجابة الصحيحة فيما يلي :

١	ماذا تعمل إذا كانت نتائج تجاربك لا تدعم فرضيتك ؟	أ	أغير الفرضية	ب	أعيد التجربة حتى تتفق مع الفرضية	ج	أغير بياناتي حتى تطابق الفرضية	د	لا أعمل شيئاً
٢	تسمى المتغيرات التي لا تتغير أثناء التجربة :	أ	ثابتة	ب	مستقلة	ج	تابعة	د	استدلالية
٣	حدوث الفصول الأربعة بسبب دوران الأرض حول الشمس . تصنف هذه العبارة على أنها :	أ	نظرية علمية	ب	قانون علمي	ج	فرضية	د	ملاحظة
٤	علم يهتم بدراسة المادة وتفاعلاتها :	أ	علم الفيزياء	ب	علم الكيمياء	ج	علم الأرض والفضاء	د	علم الأحياء
٥	صورة ثلاثية الأبعاد لبكتريا القولون مثالاً على نموذج :	أ	مادي	ب	حاسوبي	ج	فكري	د	عقلي
٦	جميعها من أمثلة النماذج الفكرية ماعدا :	أ	معادلة السرعة	ب	معادلة رياضية	ج	قانون الشغل	د	نموذج النظام الشمسي
٧	تستخدم في النماذج في :	أ	التواصل	ب	اختبار التوقعات والفرضيات	ج	توفير المال والوقت	د	جميع ما سبق

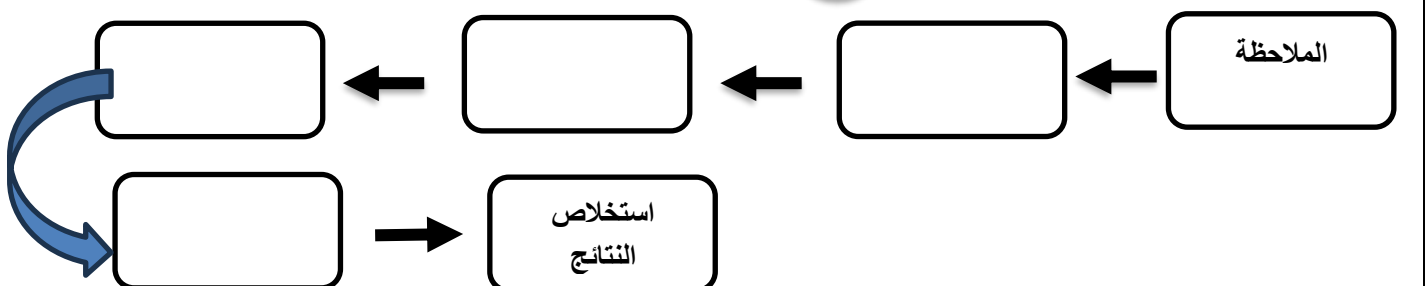
**السؤال الثاني :** ضعي علامة "√" أمام الإجابة الصحيحة وعلامة "x" أمام الإجابة الخاطئة :

- ١- من المفيد تغيير أكثر من متغير خلال التجربة الواحدة. ( )
- ٢- تكون البيانات العلمية موثوقة إذا تمت ملاحظتها مرة واحدة على الأقل. ( )
- ٣- تكون النماذج العلمية دقيقة بقدر دقة المعلومات المستخدمة لبنائها. ( )
- ٤- لا يمكن أن يعرف العلماء يقيناً صحة تفسير ما حثه بعد القيام بالعديد من الاستقصاءات العلمية. ( )
- ٥- يدرس علماء الأرض كيفية حدوث الزلازل والبراكين. ( )

**السؤال الثالث :** اقرني العمود الأول مع ما يناسبه من مصطلحات علمية من العمود الثاني وذلك بوضع رقم أمام العمود الثاني :

العبرة	الرقم	المصطلح العلمي
١- معلومات يتم تجميعها أثناء البحث العلمي .		العلوم
٢- الربط بين ما تعرفه من معلومات مع الحقائق الجديدة لتقرر ما إذا كنت توافق على شيء ما		الاستدلال
٣- طريقة لتعلم المزيد حول العالم الطبيعي.		التجربة المضبوطة
٤- التوصل إلى استنتاجات بناء على المشاهدات السابقة .		البيانات
		التفكير الناقد

**السؤال الرابع :** أكمل مخطط الطريقة العلمية :





بِسْمِ اللَّهِ الرَّحْمَنِ الرَّحِيمِ

المملكة العربية السعودية



وزارة التعليم  
Ministry of Education

وزارة التعليم

\* مدرسة ابو سفيان بن اكارث .

اختبار مادة العلوم  
المرحلة المتوسطة  
الصف اول متوسط

اختبار ١

الدرجة

١٠

السؤال الأول اختر الإجابة الصحيحة ؟

١. ماذا نعني بالاستدلال؟

أ. عمل الملاحظات	ب. استبدال	ج. استخلاص النتائج	د. اختبار
٢. ماذا نسمي صورة ثلاثية الأبعاد لبناء معين حصلنا عليها باستخدام الحاسوب ؟			
أ. نموذجاً	ب. ثابتاً	ج. فرضية	د. متغيراً
٣. ماذا تعمل إذا كانت نتائج تجاربك لا تدعم فرضيتك :			
أ. لأعمل شيئاً	ب. أعيد التجربة	ج. أغير الفرضية	د. أغير بياناتي
٤. المتغيرات ..... عوامل يتم تغييرها أثناء التجربة ؟			
أ. التابعة	ب. المستقلة	ج. الثابتة	د. الضابطة
٥. أي مما يلي يمكن أن يفسر حدثاً في العالم الطبيعي :			
أ. قانون علمي	ب. نظرية علمية	ج. تقنية	د. تجربة علمية

السؤال الثاني : أكل الفراغات التالية ؟

١. يمكن تقويم أي تفسير من خلال جزأين ..... و .....
٢. هي نماذج يمكن لمسها أو رؤيتها .
٣. يهتم بدراسة المخلوقات الحية وطرائق ارتباطها معاً.
٤. طريقة لتعلم المزيد حول العالم الطبيعي .

السؤال الثالث: ضع علامة صح (√) أمام الإجابة الصحيحة وعلامة خطأ (X) أمام الإجابة الخاطئة ؟

(١) الفرضية هي تخمين لجواب أو تفسير منطقي محتمل يعتمد على معرفتك وملاحظاتك
(٢) البيانات معلومات يتم تجميعها أثناء البحث العلمي من خلال الملاحظة .
(٣) تشرق الشمس من المشرق هي نظرية علمية .
(٤) تستخدم النماذج لتوفير الوقت والمال والمحافظة على الأرواح .
(٥) هناك عوامل يتم ضبطها أثناء التجربة ولا تتغير تسمى الثوابت .

توقيع ولي الأمر .....

بِسْمِ اللَّهِ الرَّحْمَنِ الرَّحِيمِ

المملكة العربية السعودية



وزارة التعليم  
Ministry of Education

وزارة التعليم

نموذج الإجابة

\* مدرسة ابو سفيان بن اكارث .

اختبار مادة العلوم  
المرحلة المتوسطة  
الصف اول متوسط

اختبار ١

الدرجة

١٠

السؤال الأول اختر الإجابة الصحيحة ؟

١. ماذا نعني بالاستدلال؟

أ. عمل الملاحظات	ب. استبدال	ج. استخلاص النتائج	د. اختبار
٢. ماذا نسمي صورة ثلاثية الأبعاد لبناء معين حصلنا عليها باستخدام الحاسوب ؟			
أ. نموذجاً	ب. ثابتاً	ج. فرضية	د. متغيراً
٣. ماذا تعمل إذا كانت نتائج تجاربك لا تدعم فرضيتك :			
أ. لأعمل شيئاً	ب. أعيد التجربة	ج. أغير الفرضية	د. أغير بياناتي
٤. المتغيرات ..... عوامل يتم تغييرها أثناء التجربة ؟			
أ. التابعة	ب. المستقلة	ج. الثابتة	د. الضابطة
٥. أي مما يلي يمكن أن يفسر حدثاً في العالم الطبيعي :			
أ. قانون علمي	ب. نظرية علمية	ج. تقنية	د. تجربة علمية

السؤال الثاني : أكمل الفراغات التالية ؟

١. يمكن تقويم أي تفسير من خلال جزأين تقويم الملاحظات و تقويم الاستنتاجات
٢. النماذج المادية هي نماذج يمكن لمسها أو رؤيتها .
٣. علم الاحياء يهتم بدراسة المخلوقات الحية وطرائق ارتباطها معاً.
٤. العلوم طريقة لتعلم المزيد حول العالم الطبيعي .

السؤال الثالث: ضع علامة صح (√) أمام الإجابة الصحيحة وعلامة خطأ (X) أمام الإجابة الخاطئة ؟

صح	(١) الفرضية هي تخمين لجواب أو تفسير منطقي محتمل يعتمد على معرفتك وملاحظاتك
صح	(٢) البيانات معلومات يتم تجميعها أثناء البحث العلمي من خلال الملاحظة .
خطأ	(٣) تشرق الشمس من المشرق هي نظرية علمية .
صح	(٤) تستخدم النماذج لتوفير الوقت والمال والمحافظة على الأرواح .
صح	(٥) هناك عوامل يتم ضبطها أثناء التجربة ولا تتغير تسمى الثوابت .

توقيع ولي الأمر .....