

نعم تحميل وعرض المادة من

موقع حل دروسي

www.hldrwsy.com

موقع حل دروسي هو موقع تعليمي يعمل على مساعدة المعلمين والطلاب وأولياء الأمور في تقديم حلول الكتب المدرسية والاختبارات وشرح الدروس والملخصات والتفاصيل وتوزيع المنهج لكل المراحل الدراسية بشكل واضح ومبسط مجاناً بتصفح وعرض مباشر أونلاين على موقع حل دروسي

ضع علامة (√) امام العبارة الصحيحة وعلامة (x) امام العبارة الخاطئة ؟

1	من ابرز واهم جهود المملكة العربية السعودية لتنويع الاقتصاد (رؤية المملكة 2030)	√
2	عندما تتزاحم الاعمال وأشعر بالقلق ويضيق الوقت وتتراكم الاعمال يكون تخطيطي ناجحا	x
3	الترابط بين دول العالم العربي والاسلامي يخدم العالم أجمع	√
4	يتوزع اغلب سكان العالم العربي والاسلامي في قارتي آسيا وافريقيا	√
5	عندما أخطط لتنظيم وقتي لا أبالي بحساب الزمن	x
6	يتفق الناس جميعا في ميولهم نحو الهوايات	x
7	تعادل مساحة العالم العربي والاسلامي خمس مساحة اليابسة	√
8	استفيد من اخطائي في التخطيط حتى يكون تخطيطي في المستقبل ناجحا	√
9	تعد اندونيسيا أكبر دولة اسلامية من حيث عدد السكان	√
10	تقع ألبانيا في غرب أوروبا	x

علل (بم تفسر) لما يأتي ؟

1/ حددت حكومة المملكة العربية السعودية عددا من القطاعات الملائمة للتخصيص:

لاشراك القطاع الخاص في الاقتصاد الوطني والارتقاء بخدمات هذه القطاعات وترشيدها

2/ خصوبة التربة في اندونيسيا:

وجود البراكين

3/ تنوع الخصائص الطبيعية في العالم العربي والاسلامي:

لكبر مساحة العالم العربي والاسلامي وتنوع المناخ

4/ تضمنت برامج رؤية المملكة 2030 برنامجا خاصا بالتنمية البشرية:

لرفع كفاءة العمل لدى الموظف الحكومي وزيادة معدلات التدريب وتحسين مخرجات التعليم

5/ انتشار الفقر في العالم العربي والاسلامي :

بسبب البطالة والجهل وسيطرة الاستعمار وتخلف الصناعة وزيادة عدد السكان

اكمل الفراغات التالية بما يناسبها؟

1/ من أهم الجزر في اندونيسيا: سومطرة و جاوة.

2/ من القطاعات الانتاجية في وطني: قطاع الطاقة و قطاع الزراعة

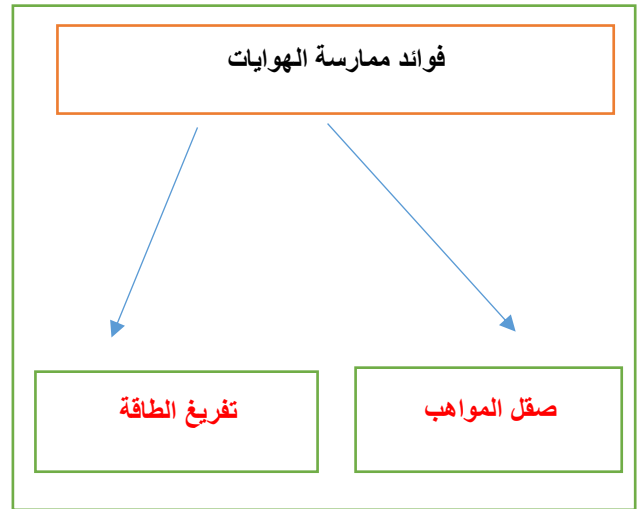
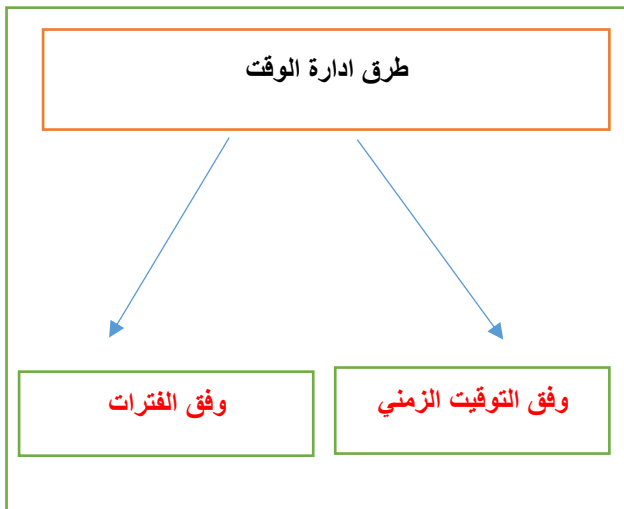
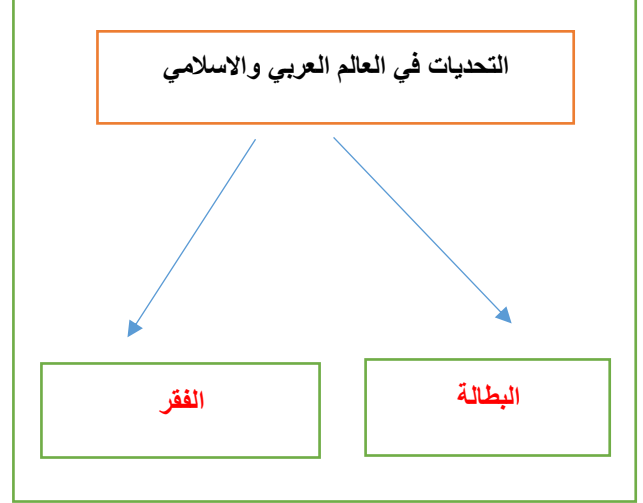
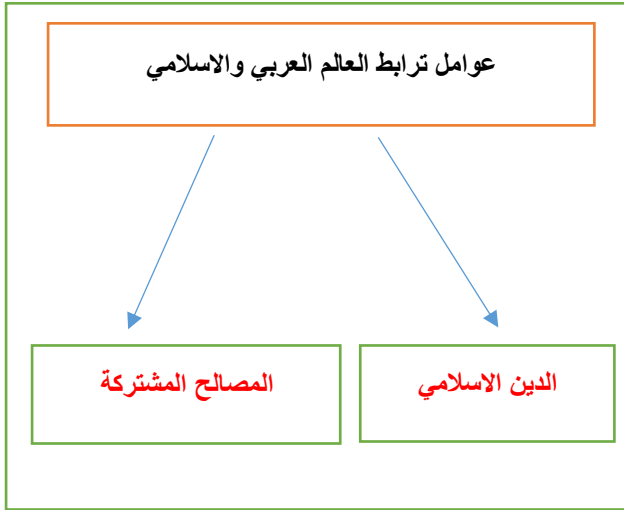
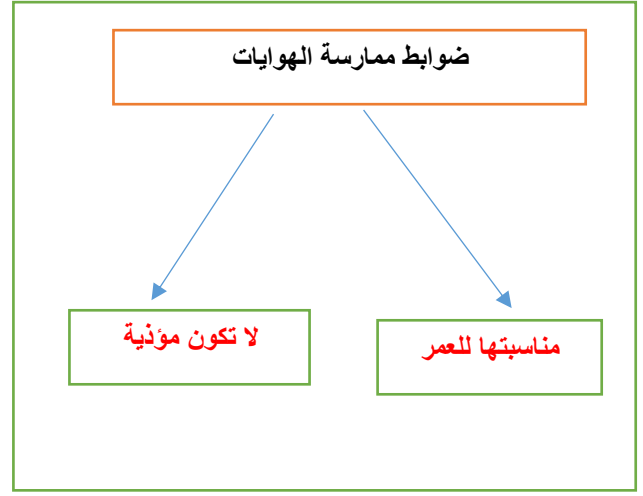
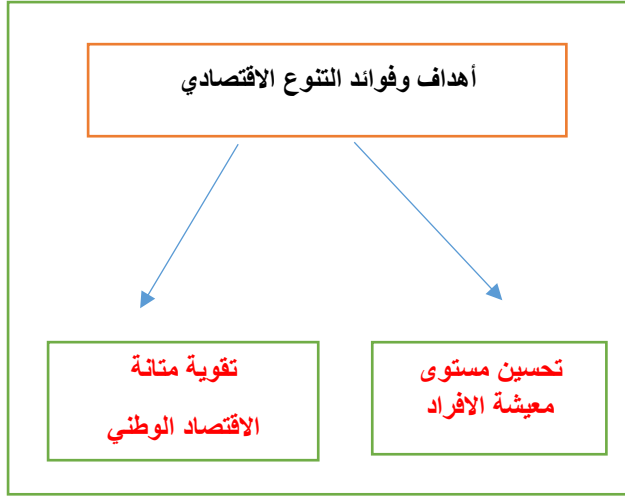
3/ انتشر الاسلام في قارة آسيا عن طريق: الفتوحات . و الطرق التجارية

4/ من اللغات الرئيسية في العالم العربي والاسلامي: اللغة العربية واللغة الاوردو.

5/ تنقسم أولويات التخطيط من حيث الزمن الى:

أعمال قصيرة المدى . وأعمال طويلة المدى

أكل خرائط المفاهيم التالية ؟



قارن بين كل مما يأتي وفق الجدول ؟

البانيا	وجه المقارنة	اندونيسيا
جنوب شرق أوروبا	الموقع	جنوب شرق آسيا
مناخ البحر المتوسط	المناخ	استوائي
تهطل في فصل الشتاء	الامطار	تهطل طوال العام
تيرانا	العاصمة	جاكرتا

أكتب بأسلوبك وعبر برأيك في المواضيع التالية ؟

1/ يواجه بعض الطلاب المشكلات اثناء تطبيق التخطيط لحل الواجبات، من دراستك وضح الطرائق المناسبة للتغلب على هذه المشكلات؟

اختيار المكان والوقت المناسبين لحل الواجبات و الابتعاد عن مايؤثر في تنفيذ الواجبات مثل الجوال والتلفاز والالعاب الالكترونية و تخصيص وقت للراحة

2/ علاقة الكفاءة والفاعلية بالإنتاج :

الكفاءة والفاعلية من اهم العوامل الرئيسية في تحديد مستوى الانتاج وزيادته وتنفيذه بالطريقة الصحيحة وفق الاهداف وباقل تكلفة و زمن .

3/ السطح في البانيا :

مرتفعات جبلية في الشرق و سهول ساحلية في الغرب

4/ أهمية تعلم اللغة العربية للمسلمين :

أنزل الله سبحانه وتعالى كتابه الكريم بلغة عربية فصيحة فأصبحت هي اللغة التي يؤدي بها المسلمون شعائرهم الدينية وكذلك تعلمها يسهم في تواصل المسلمين وزيادة ترابطهم

مستعينا بالشكل أدناه ضع المصطلحات امام مايناسبها من العبارات التالية ؟



- (الاولويات) ترتيب الاعمال وفق اهميتها مع مراعاة الزمن لتنفيذها .
- (الناتج المحلي) القيمة الاجمالية للمنتجات من السلع والخدمات التي تنتج في الدولة في زمن محدد .
- (الهوايات) نشاط يمارسه الفرد لتلبية احتياجاته الذاتية وتنمية مهاراته وقدراته .
- (التركيب العمري) تقسيم السكان الى فئات حسب اعمارهم .
- (العالم العربي) الدول الاعضاء في جامعة الدول العربية وعددها 22 دولة
- عزيزي الطالب من خلال دراستك لأنواع الهوايات حدد نوع الهواية في الصور ادناه مستعينا بالشكل المجاور ؟



هواية تعلم



هواية منافسة



هواية ابتكار



هواية ابداع

هواية جمع
هواية ابتكار
هواية ابداع
هواية منافسة
هواية تعلم

اختر الاجابة الصحيحة فيما يأتي ؟

1	ما يبذل من جهود لتصنيع السلع وتوفيرها :	2	يتضمن قطاع البنية التحتية :
أ	النشاط الاقتصادي	أ	التجارة الخارجية
ب	الناتج المحلي	ب	التجارة الداخلية
ج	التبادل التجاري	ج	الانتاج
د	الميزان التجاري	د	الاعمال الانشائية الاساسية
3	تنمية الاستثمار يؤدي الى :	4	المصدر الوحيد للدخل في الاقتصاد يعتبر :
أ	التضخم الاقتصادي	أ	متانة
ب	التنوع الاقتصادي	ب	نجاح
ج	الركود الاقتصادي	ج	زيادة
د	العجز الاقتصادي	د	خلل
5	تعتبر ثاني اكبر بلد منتج للقصدير في العالم	6	فقدان القدرة على القراءة والكتابة :
أ	إندونيسيا	أ	الفقر
ب	اليانبا	ب	الأمية
ج	نيجيريا	ج	البطالة
د	باكستان	د	التلوث
7	تقع هضبة نجد في :	8	تبلغ مساحة العالم العربي والاسلامي :
أ	المملكة العربية السعودية	أ	4 مليون كم ²
ب	المغرب	ب	14 مليون كم ²
ج	ايران	ج	24 مليون كم ²
د	السودان	د	34 مليون كم ²
9	تتكون بسبب ارساب الانهار :	10	من اهم الانهار في العالم العربي ويقع في مصر :
أ	سهول ساحلية	أ	نهر دجلة
ب	سهول فيضيه	ب	نهر الفرات
ج	سهول بركانية	ج	نهر النيل
د	سهول جليدية	د	نهر السند

ضع الرقم الموجود امام المجموعة الاولى امام مايناسبه من المجموعة الثانية ؟

م	المجموعة الاولى	الرقم	المجموعة الثانية
1	جاكرتا	2	نيجيريا
2	أبوجا	3	البانيا
3	تيرانا		السنغال
		1	اندونيسيا
1	جبال طوروس	3	المملكة العربية السعودية
2	هضبة بلوختان		مصر
3	جبال الحجاز	1	تركيا
		2	باكستان

عزيزي الطالب من خلال دراستك اجب عن الاسئلة التالية بايجاز؟

(أ) لموقع العالم العربي والاسلامي اهمية دينية واقتصادية واستراتيجية وذلك لمميزات (انكرها) ؟

- وقوعه في وسط العالم القديم (آسيا وافريقيا واوروبا) ، مهد الديانات السماوية الثلاث (اليهودية والنصرانية و الاسلام) ، مرور طرق التجارة العالمية بأراضيه ، اطلاله على مسطحات مائية ومضائق هامة .

(ب) نيجيريا دولة اسلامية لها مناخان (وضح ذلك)؟

في الشمال مناخ مداري يتميز بالحرارة أغلب السنة وفي الجنوب استوائي حار ممطر طوال العام